

学校名		チーム 番号	
-----	--	-----------	--

点
---

問1

答え	個
----	---

問2

答え

学校名		チーム 番号	
-----	--	-----------	--

点
---

問1

--

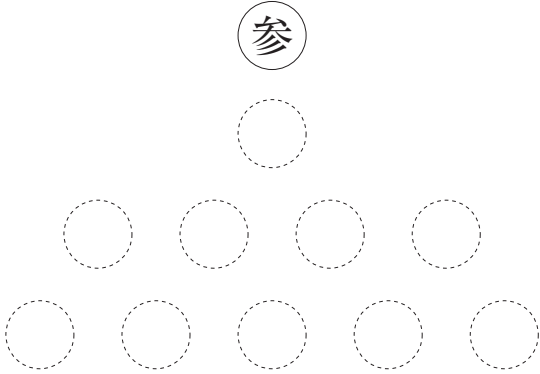
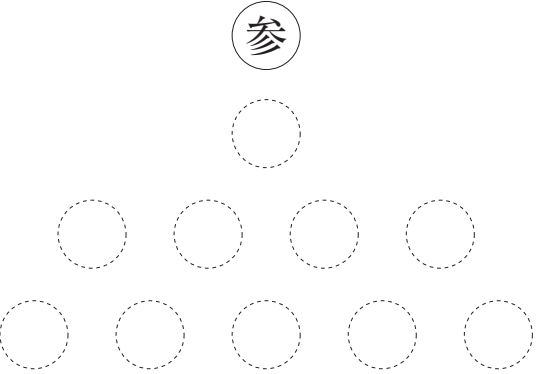
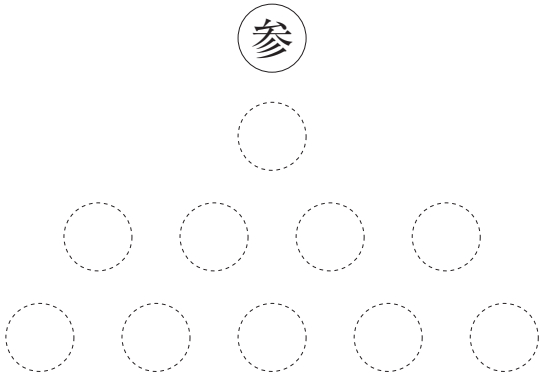
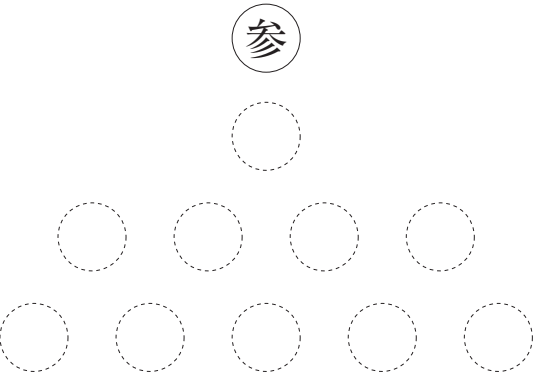
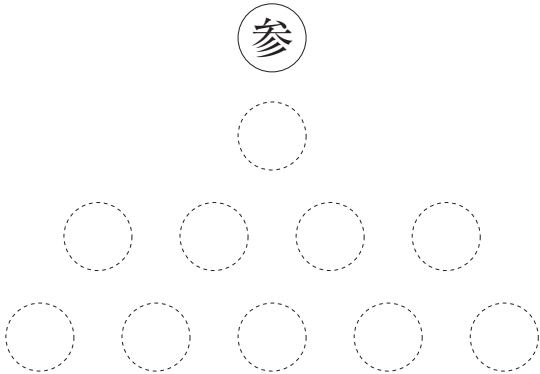
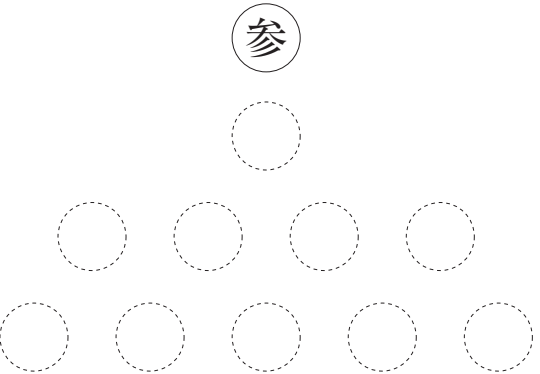
問2

--

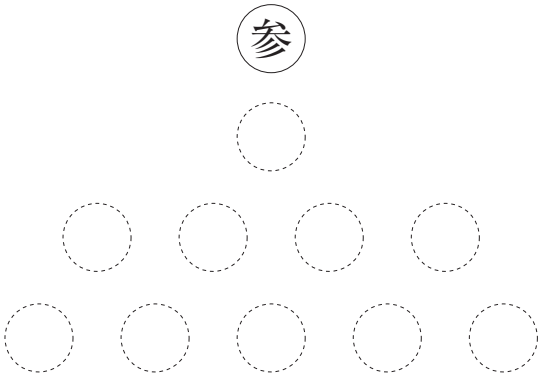
問3

8	9	10

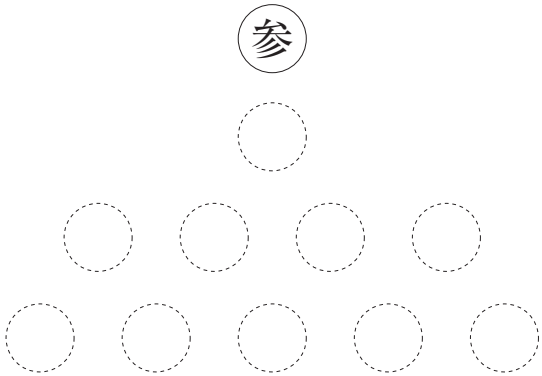
問4

<p>1</p> 	<p>2</p> 
<p>3</p> 	<p>4</p> 
<p>5</p> 	<p>6</p> 

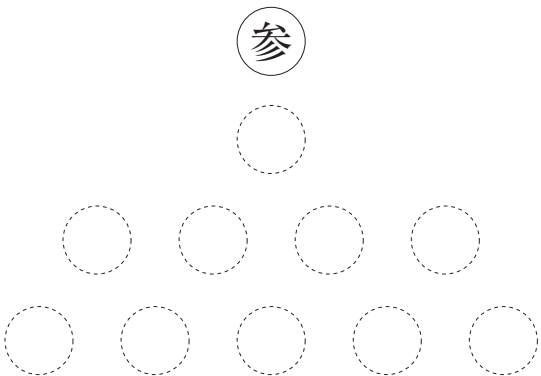
7



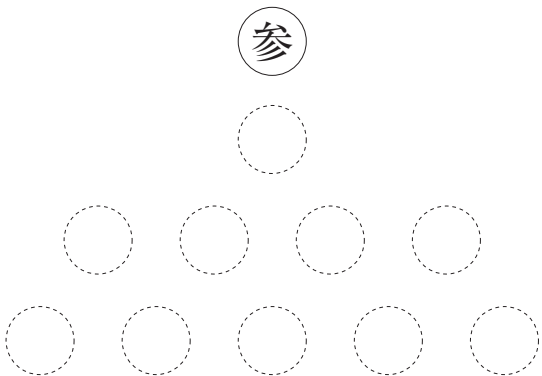
8



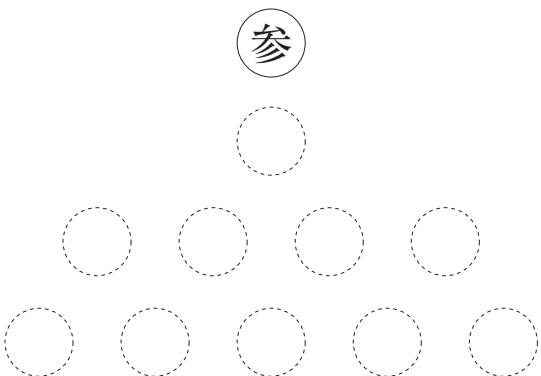
9



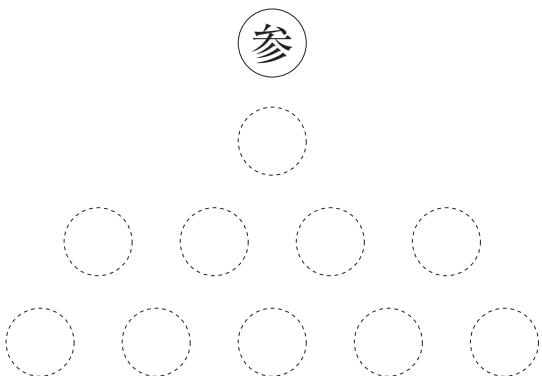
10



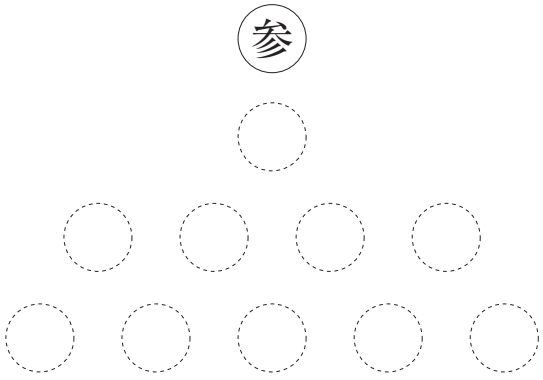
11



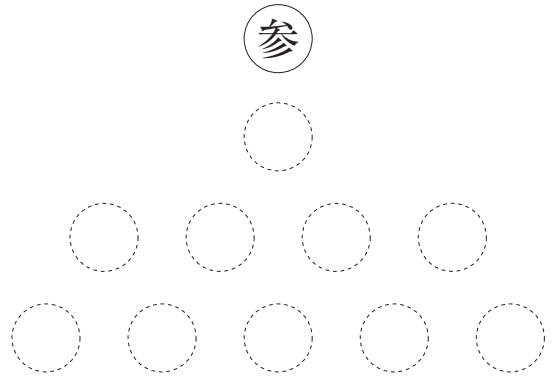
12



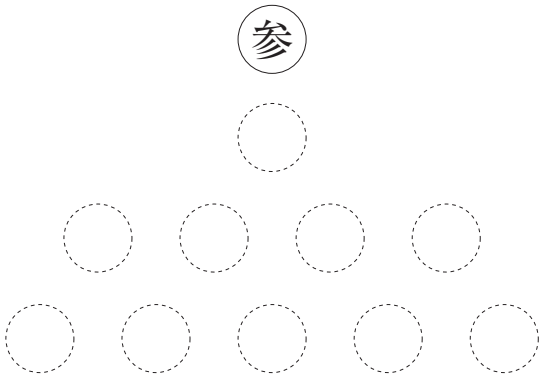
13



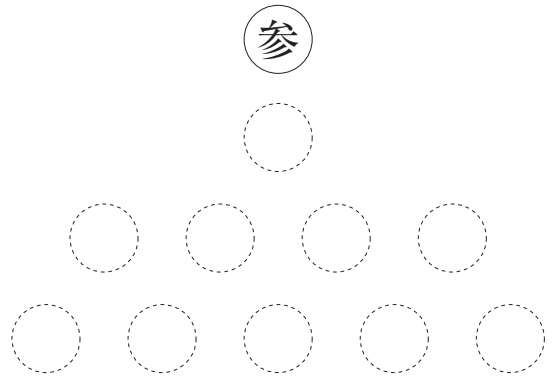
14



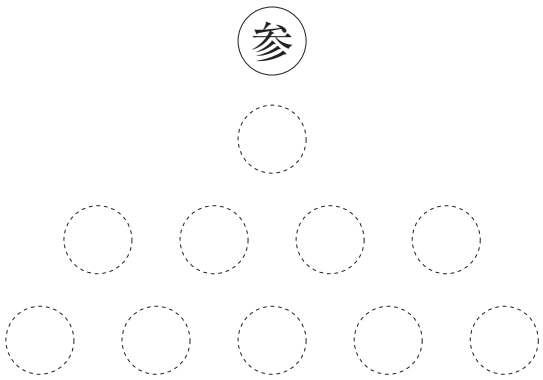
15



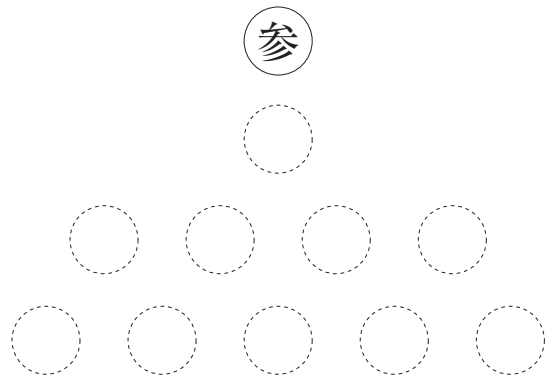
16



17



18



学校名		チーム 番号	
-----	--	-----------	--

点
---

問1

--

問2

--

問3

--

問4

--

問5 必要なものを全て記入せよ。


問6

--

問7

理由	

問8

--

問9

問10





# 科学の甲子園ジュニア 解答用紙

## 第4問

(50点満点)

学校名		チーム 番号	
-----	--	-----------	--

点
---

問1

--

問2

--

問3


問4

--

問5

--

問6

--

問7

--

問8

--

チーム 番号	
-----------	--

問9

問10



学校名		チーム 番号	
-----	--	-----------	--

点
---

記述式

問1

①	②	③	④
⑤	⑥	⑦	⑧

問2

(1) 縦軸	(1) 横軸	(2) 縦軸	(2) 横軸
(3) 縦軸	(3) 横軸	(4)	(5) グラフに記入


問3

(1)	(2)	(3)	(4)
-----	-----	-----	-----

問4

(1)	(2)	(3)	(4)
-----	-----	-----	-----

問2 (5)のグラフ用紙





学校名		チーム 番号	
-----	--	-----------	--

点
---

問1

①	②	③	④
---	---	---	---

問2

--

問3

⑤	A
---	---

問4


問5

実験	
注意すること	

問6



問7

